

Opgave 6 – Brazilië: Landschappen langs de kust van Brazilië

Bij deze opgave horen de bronnen 13 tot en met 18.

Gebruik de bronnen 13 en 14 en het kaartenkatern.

In bron 13 staan vier foto's van landschappen in Brazilië. Deze foto's horen bij de locaties aangegeven locaties in bron 14.

- 2p 21 Noteer de letters a tot en met d van de foto's op je antwoordblad. Schrijf achter elke letter het cijfer van de juiste locatie.

Gebruik de bronnen 14 tot en met 17.

Het klimaatdiagram in bron 15 hoort bij een van de vier aangegeven locaties in bron 14.

- 3p 22 Bij welke locatie hoort het klimaatdiagram in bron 15? Geef voor **twee** van de overgebleven locaties aan waarom die niet bij dit klimaatdiagram horen.

Gebruik het kaartenkatern.

Een van de foto's in bron 13 is genomen in het natuurgebied Chapada Diamantina (Diamantenplateau). Dit gebied dankt zijn naam aan de diamanten die er gevonden zijn.

- 1p 23 Geef aan van welk groter fysisch-geografisch deelgebied in Brazilië Chapada Diamantina deel uitmaakt.

Gebruik bron 18.


Bron 18 laat een vegetatietype zien dat voorkomt langs delen van de Braziliaanse kust.

- 2p 24 Geef
- de naam van dit type vegetatie;
 - een voordeel van dit type vegetatie voor het kustbeheer in Brazilië.

Opgave 6 – Brazilië: Landschappen langs de kust van Brazilië

bron 13

Foto's van vier landschappen



bron 14

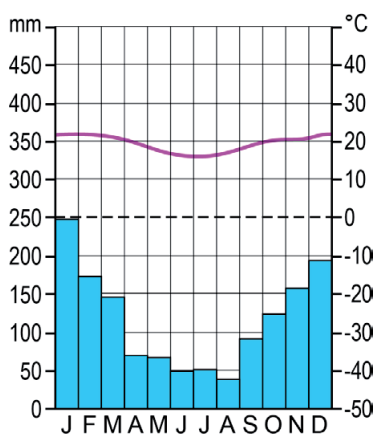
Locaties van de vier landschappen op de foto's in bron 13



0 600 1200 km

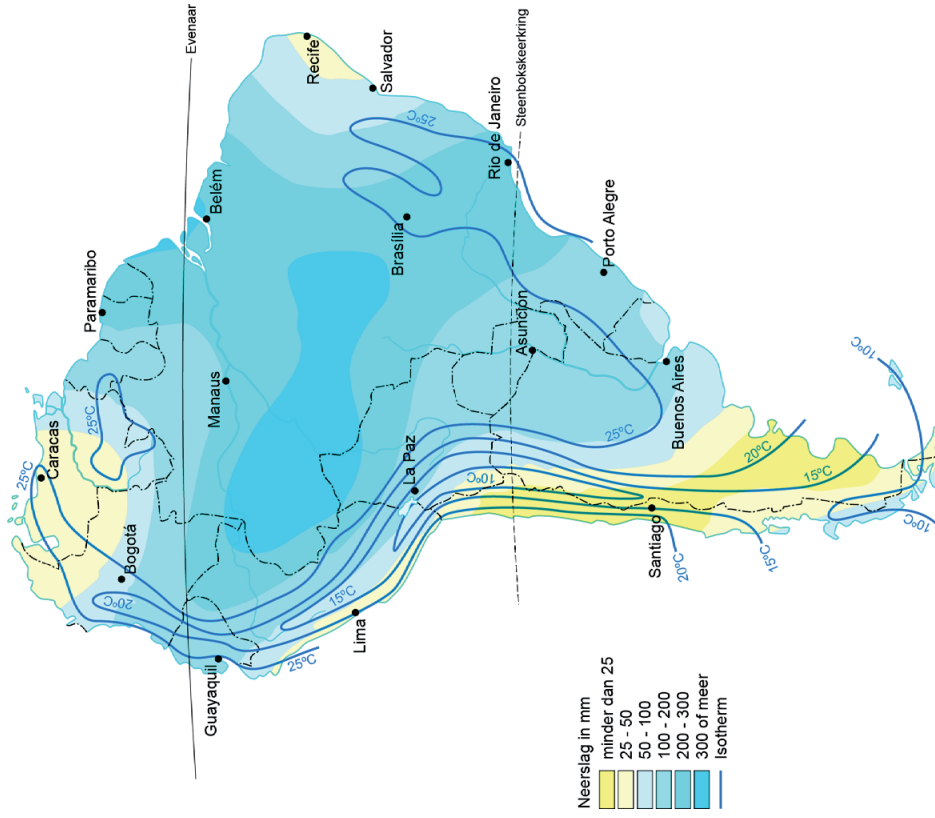
bron 15

Klimaatdiagram van een van de vier locaties in bron 14



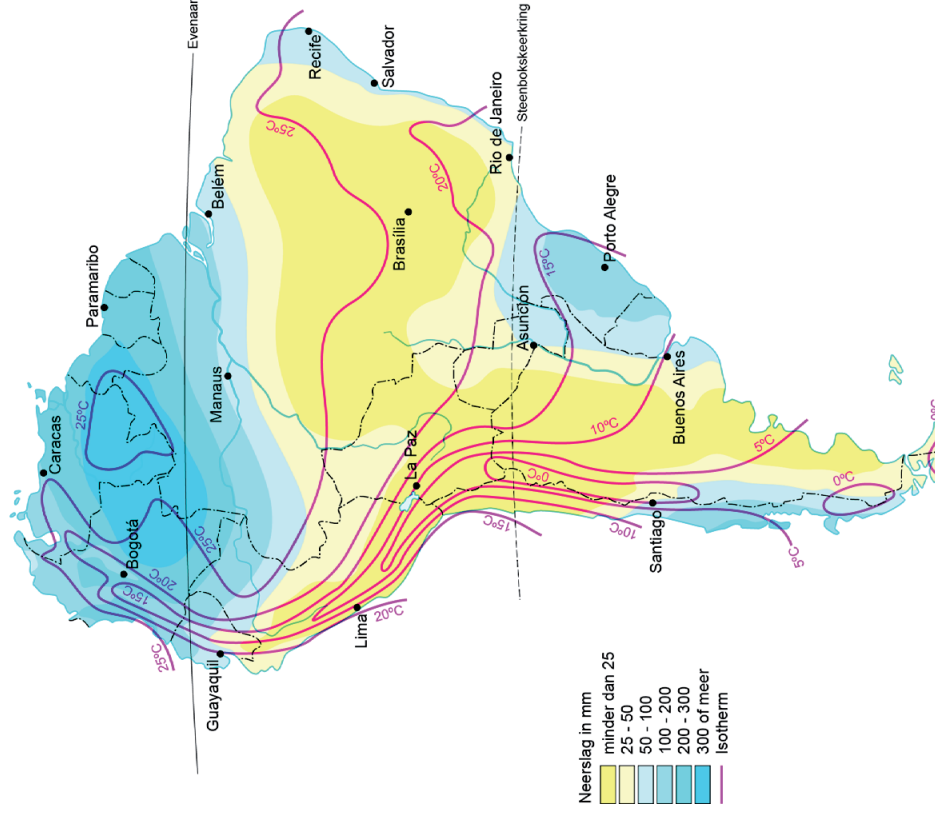
bron 16

Zuid-Amerika, temperatuur en neerslag in januari



bron 17

Zuid-Amerika, temperatuur en neerslag in juli



bron 18

Vegetatie ten zuiden van de Allerheiligenbaai (deelstaat Bahia)



Bronvermelding

Een opsomming van de in dit examen gebruikte bronnen, zoals teksten en afbeeldingen, is te vinden in het bij dit examen behorende correctievoorschrift.